


✓ Je résous des problèmes avec les euros.




une pièce de 1€



une pièce de 2€

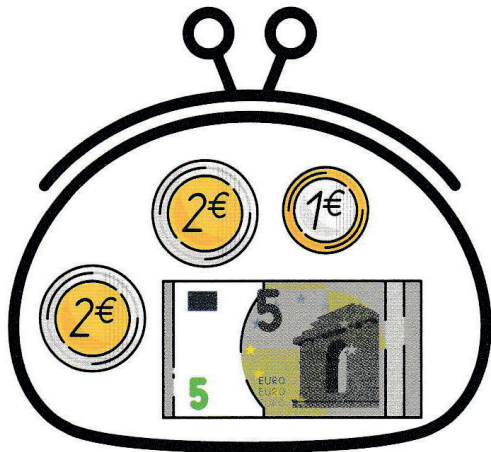


un billet de 5€





un billet de 10€

1 Combien y a-t-il d'argent dans le portemonnaie?



Il y a 10 euros dans le portemonnaie.

2 Combien dois-je donner d'argent pour acheter les fruits? Barre ce qui est en trop.



Complète à 8.




$8 = 2 + \dots 6$



$8 = 3 + \dots 5$



$8 = 1 + \dots 7$



$8 = 4 + \dots 4$